



مجری آزمون
بانک سینا



زمان برگزاری آزمون
۱۳۹۸ آذر ۱۹

اصل سوالات آزمون استخدامی

بانک سینا ۱۳۹۸

✓ اصل سوالات آزمون استخدامی بانک سینا ۱۳۹۸ برگزار شده در ۱۹ آذر ۱۳۹۸

✓ نسخه رایگان شامل ۶۰ سوال به همراه کلید سوالات در انتهای جزوه

✓ مجری آزمون: بانک سینا



لینک های مفید آزمون استخدامی بانک سینا

خرید سوالات بانک سینا	سوالات رایگان بانک ها با پاسخنامه
خرید سوالات ایران آزمون (مجری آزمون)	فایل اطلاعات آزمون
خرید سوالات استخدامی ۱۰ سال اخیر	خرید جزوه بانک سینا
خرید سوالات مصاحبه	خرید جزوه مصاحبه
منابع آزمون	اخبار آزمون
شبکه های اجتماعی ایران عرضه (فایل های رایگان + تخفیفات هفتگی + اخبار)	

(برای مشاهده هر بخش روی آن بزنید )

فهرست مطالب

- ❖ فصل اول: سوالات تایپ شده آزمون استخدامی بانک سینا سال ۱۳۹۸ - صفحه ۴ (۶۰ سوال)
هوش عمومی - ادبیات - دانش رایانه ICDL - زبان انگلیسی
- ❖ فصل دوم: عکس سوالات آزمون استخدامی بانک سینا سال ۱۳۹۸ - صفحه ۱۲
- ❖ فصل سوم: کلید سوالات آزمون استخدامی بانک سینا سال ۱۳۹۸ - صفحه ۲۸



❖ فصل اول: سوالات تایپ شده آزمون استخدامی بانک سینا سال ۱۳۹۸

◀ هوش عمومی

۱- متحرکی که به طرف جنوب در حرکت بوده، سه مرتبه هر بار یک قائمه، مسیر خود را به سمت راست تغییر داده است سمت حرکت به کدام سمت است؟

- (۱) جنوب (۲) شمال (۳) مشرق (۴) مغرب

۲- نسبت..... به باران مثل دلتنگی است به.....

- (۱) ابر - آسمان (۲) ابر - گریه (۳) برف - غصه (۴) زمستان - گریه

۳- حجم کدام بیشتر است؟

- (۱) ستون الف: (۲) ستون ب:

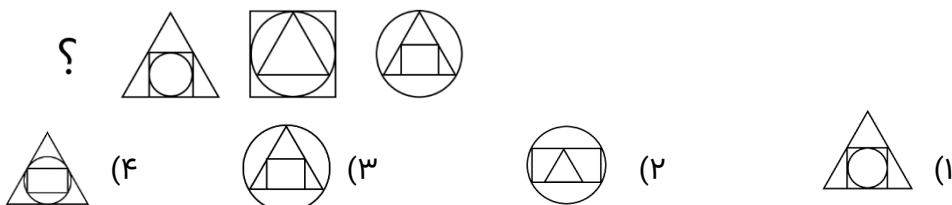
یک کره با شعاع 10cm یک مکعب با ضلع 10cm

۴- بین دو شکل اول سوال، از سمت راست، نسبتی برقرار است که همان نسبت بین شکل سوم با یکی از گزینه‌های ۱ و ۲ و ۳ و ۴ موجود است. شکل صحیح را انتخاب کنید.



☑ پاسخ سایت ایران عرضه: گزینه ۴ ← شکل دوم از سمت راست از تقسیم شکل اول به دو قسمت مساوی به دست آمده است. با تقسیم شکل سوم از سمت راست یک نیم دایره به عنوان شکل چهارم به دست خواهد آمد

۵- سه شکل داده شده است که بین آنها، یک رابطه منطقی وجود دارد این رابطه را بیابید و سپس یکی از چهار شکل پیشنهاد شده را که باید به جای علامت؟ قرار داد، انتخاب کنید.



۶- همه حاضران در این اتاق شیرازی هستند، رضا در این اتاق است. رضا شیرازی نیست. اگر جمله اول و دوم درست باشد. جمله سوم:

- (۱) حتما درست است (۲) حتما غلط است

۳) احتمالا غلط است

۴) احتمالا درست است

۷- پزشک به بیماری، مثل روانپزشک است به:

- ۱) تنگدستی ۲) حماقت ۳) سالخوردگی ۴) ناسازگاری

۸- به هر یک از سه فرزند پدری که نصف دارایی خود را به تساوی بین آنها تقسیم کرده است، چه کسری از کل دارایی پدر می‌رسد؟

- ۱) $\frac{1}{6}$ ۲) $\frac{1}{5}$ ۳) $\frac{1}{4}$ ۴) $\frac{1}{3}$

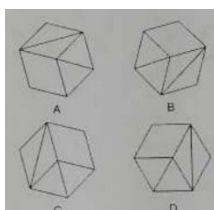
۹- به اجناس یک فروشگاه در مدت یکماه، دوبار تخفیف ۱۰% داده شده است چند درصد نسبت به قیمت اولیه تخفیف داده شده است؟

- ۱) ۲۰% ۲) ۲۱% ۳) ۱۹% ۴) هیچکدام

۱۰- رابطه وزارت با ترازو مانند رابطه است با بیرق:

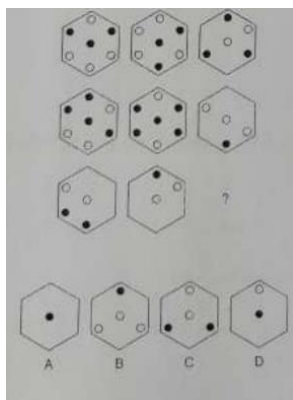
- ۱) درفش ۲) نزدیک ۳) پرچم ۴) بلندی

۱۱- کدام یک با بقیه فرق دارد؟



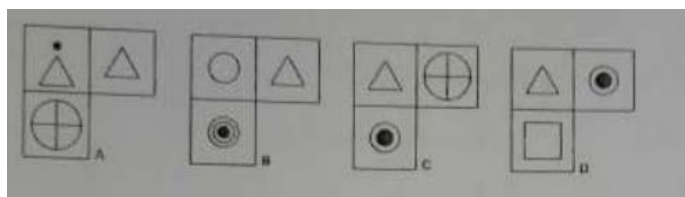
- ۱) A
۲) B
۳) C
۴) D

۱۲- کدام شش ضلعی باید جایگزین علامت سوال شود؟



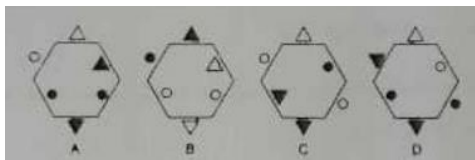
- ۱) A
۲) B
۳) C
۴) D

۱۳- کدام گزینه از شکل زیر حذف گردیده است؟



- ۱) A
۲) B
۳) C
۴) D

۱۴- نسبت  به  مانند نسبت  به کدام شکل است؟



A (۱)

B (۲)

C (۳)

D (۴)

۱۵- حاصل $(2a - b)^2 + 4a(b - a)$ کدام است؟

$a(a+b)$ (۴)

$b(2b-a)$ (۳)

$b(a-b)$ (۲)

b^2
b (۱)

ادبیات

۱۶- توضیح زیر در مورد کدام یک از نامه‌های اداری است؟

«نوشته‌ای که جنبه عمومی دارد و از طرف مقام مسئول و ذیصلاح به منظور آگاهی و یا اجرا برای واحدها و کارکنان ذینفع یا

ذیربط ارسال میگردد»

(۱) دستور العمل (۲) بخشنامه (۳) اطلاعیه (۴) دستور

۱۷- کدام یک از موارد زیر از ارکان اصلی نامه‌های اداری محسوب نمی‌شود؟

(۱) پیوست (۲) سرلوحه

(۳) عناوین (گیرنده، فرستنده و موضوع) (۴) امضا

۱۸- در مورد امضای نامه اداری کدام گزینه نادرست است؟

(۱) هیچ گونه عبارت اعم از تشکر احترام و آرزوی سلامتی در محل امضا نوشته نشود.

(۲) وقتی نامه روی سر برگ است، سمت کامل در پایین امضا نوشته نشود.

(۳) در مجموع، امضای نامه اداری دارای سه رکن است، سمت فرد امضا کننده، نام و نام خانوادگی امضا کننده و خط امضا

(۴) در امضای نامه ابتدا سمت فرد امضا کننده و در سطر پایین، نام و نام خانوادگی وی قید می‌گردد.

۱۹- در کدام گزینه، دو عبارت استاندارد نامه اداری با هم تناسب ندارند؟

(۱) به اطلاع می‌رساند - ارسال میگردد (۲) به استحضار می‌رساند - مقتضی است

(۳) ابلاغ می‌گردد - شایسته است (۴) خواهشمند است - تقدیم می‌گردد.

۲۰- کدام یک از گزینه‌های زیر جزء نامه‌های طبقه‌بندی شده نیست؟

(۱) نامه‌های فوق العاده سری (۲) نامه‌های محرمانه مستقیم

(۳) نامه‌های به کلی سری (۴) نامه‌های سری

۲۱- در عبارت زیر چند غلط از نظر رسم الخط وجود دارد؟

«یکی از فرمالیست‌ها در رابطه با دیدگاه‌های منتقدان خود می‌گوید: بعنوان سیاستگذار مکتب فرمالیسم علاقمندم با ایشان بصورت مستقیم گفتگو کنم»

(۱) پنج (۲) هشت (۳) شش (۴) هفت

۲۲- در عبارت «عبید زاکانی دانشمند وارسته‌ای بود که در زمان خود محبوب بود ولی حرفهای خود را در قالب شوخی بیان

میکرد» بین دو واژه «بود» و «ولی» کدام علامت نگارشی مناسب است؟

(۱) نقطه (۲) ویرگول (۳) دو نقطه (۴) نقطه ویرگول

۲۳- توضیح زیر مربوط به کدام یک از علایم نشانه‌گذاری است؟

«از این علامت به منظور نشان دادن تغییر روال نوشته و یا تغییر کلی سیاق سخن استفاده می‌شود»

(۱) سه ستاره (۲) قلاب (۳) دو کمان (پرانتز) (۴) خط کشیده

۲۴- در کدام یک از جمله‌های زیر غلط نگارشی وجود ندارد؟

(۱) از ایشان خواستیم درباره این مسابقه برای شما توضیحاتی داشته باشند.

(۲) این ساختمان از نقص‌های مهندسی فراوانی برخوردار است

(۳) کتاب‌هایی که سال گذشته از نمایشگاه خریدم را هنوز مطالعه نکرده‌ام

(۴) سوابق درخشان آقای احمدی، ما را بیش از پیش امیدوار می‌کند.

۲۵- در کدام یک از عبارت‌های زیر غلط نگارشی وجود دارد؟

(۱) خیرین مدرسه‌ساز هر سال مدارس زیادی را آماده و به آموزش و پرورش تحویل می‌دهند.

(۲) گزارش بعدی ما به رویدادهای فرهنگی و هنری اختصاص دارد.

(۳) شهرهای شمالی ایران از منظره‌های بسیار زیبایی برخوردار هستند.

(۴) آسمان شهرهای تهران، زاهدان، مشهد و کرمانشاه آفتابی پیش‌بینی می‌شوند.

۲۶- در کلماتی که همزه پایانی دارند اگر حرف پیش از همزه ساکن یا یکی از مصوت‌های بلند («ا»، «و» و «ی») باشد،

همزه

(۱) روی کرسی «ا» نوشته می‌شود (۲) بدون کرسی نوشته می‌شود.

(۳) روی کرسی «و» نوشته می‌شود (۴) روی کرسی «ی» نوشته می‌شود

۲۷- کدام گزینه در مورد صورتجلسه نادرست است؟

(۱) رئیس جلسه مانند سایر اعضا دارای یک حق رای است و به دلیل رئیس بودن امتیاز ویژه‌ای به وی تعلق نمی‌گیرد.

(۲) در صورتی که فرد شرکت‌کننده به نمایندگی از طرف شخص حقیقی دیگری در جلسه حضور یافته باشد نام هر دو نفر باید

با توجیه کامل مطلب قید شود.

(۳) نظارت بر آماده بودن جلسه و حصول اطمینان از فراهم بودن لوازم و ابزار مورد نیاز جلسه از وظایف رئیس جلسه است.

۴) هدف از تشکیل جلسه از قبل باید به شکل مکتوب تحت عنوان دستور جلسه برای شرکت کنندگان ارسال گردد.

۲۸- «ارائه آموزش‌های لازم به منظور اجرای یکنواخت امور اداری» از اهداف کدام یک از نامه‌های اداری است؟

- (۱) بخشنامه (۲) گزارش (۳) ابلاغیه (۴) دستور العمل

۲۹- در مورد اندازه و ابعاد نامه‌های اداری کدام گزینه نادرست است؟

- (۱) کاغذ A4 مخصوص مطالب بیشتر از پنج سطر است
 (۲) کاغذ A5 مخصوص مطالب کمتر از پنج سطر است
 (۳) کاغذ A6 مخصوص یادداشتهای کوتاه داخلی بین کارمندان یک واحد سازمانی است
 (۴) کاغذ A3 مخصوص نقشه‌ها و نمودارهای گرافیکی است
 ۱۷- قطع A6 بدون سرلوحه و برای مبادلات یادداشت‌ها اداری بین کارمندان.

۳۰- کدام یک از گزینه‌های زیر جزء اهداف مکاتبات اداری نیست؟

- (۱) ایجاد ارتباطات نوشتاری صحیح و هماهنگی و یکنواختی در امور اداری سازمان‌ها
 (۲) رضایت ارباب رجوع در هنگام پیگیری
 (۳) حفظ و نگهداری مکتوب و نوشته
 (۴) نظم و ترتیب در گردش مکاتبات

◀ دانش رایانه ICDL

۳۱- یک پردازشگر شامل کدام قسمتهای زیر است؟

- (۱) واحد محاسبه و منطق - واحد کنترل - حافظه
 (۲) واحد محاسبه و منطق - واحد کنترل - حافظه نهان
 (۳) ALU - واحد کنترل - Register
 (۴) گزینه‌های ۱ و ۳

۳۲- معادل عدد ۸(2735) در مبنای 2 کدام است؟

- (۱) ۱۰۰۱۱۱۰۰۱۱۰۱۰۱ (۲) ۱۰۱۰۱۱۰۱۱۱۰۱۰
 (۳) ۱۰۱۱۱۰۱۱۰۰۱ (۴) ۱۰۱۱۱۰۱۱۱۰۱

۳۳- برای اینکه اطلاعات حذف شده در داخل Recycle Bin قرار نگیرند کلید..... را نگه می‌داریم.

- (۱) Shift (۲) Ctrl (۳) Alt (۴) Ctrl+Shift

۳۴- به وسیله چه برنامه‌ای امکان فشردن فایل‌ها وجود دارد؟

- (۱) Win zip (۲) Win RAR (۳) Clean Up (۴) گزینه‌های ۱ و ۲

۳۵- اسناد تولید شده در محیط Word با چه فرمتی ذخیره می‌شود؟

Gif ، Jpg (۴) Doc ، Docx (۳) Dot ، Dotx (۲) Wordx ، Word (۱)

۳۶- با کدام گزینه زیر می توان جدول را رسم کرد؟

(۱) سربرگ home، گروه Table، دکمه Table

(۲) سربرگ Insert گروه Table دکمه Insert Table

(۳) سربرگ View گروه document views دکمه Print Layout

(۴) سربرگ Insert گروه Illustrations دکمه Chart

۳۷- مقدار $=\text{Sum}(D2:D6)/\text{Count}(D2:D6)$ برابر است با:

(۱) ۱۵ (۲) ۵ (۳) ۱۶ (۴) ۱۲

۳۸- مقدار عبارت زیر کدام است؟

$=(\text{Min}(B2:E6) + \text{Max}(B2:E6))/2$

	A	B	C	D	E
1		word	excel	access	windows
2	amir	15	7	12	18
3	ali	19	13	15	18
4	negar	8	12	5	15
5	ehsan	13	18	16	14
6	kazem	3	8	12	5

(۱) ۱۱

(۲) ۱/۵

(۳) ۹/۵

(۴) ۲۲

۳۹- کدام یک از تعاریف زیر یا عبارت مطابقت دارد؟

(۱) Field (به هر ستون از جدول گفته میشود)

(۲) Table (به مجموعه ای از چند فیلد گفته می شود)

(۳) Record (به مجموعه ای از چند فیلد گفته می شود)

(۴) همه موارد

۴۰- کدام یک از گزینه های زیر سیستم مدیریت پایگاه داده نیست؟

(۱) Access (۲) SQL Server (۳) Word (۴) Oracle

۴۱- کدام گزینه زیر معادل Slide Show می باشد.

(۱) F4 (۲) F5 (۳) F6 (۴) F7

۴۲- فایل های ایجاد شده در محیط PowerPoint را چه می نامند؟

(۱) presentation (۲) book (۳) document (۴) chart

۴۳- WWW مخفف کدام یک از گزینه های زیر می باشد؟

World Wide Web (۲)

Wild Web Word (۱)

Web Window World (۴)

Window World Web (۳)

۴۴- اصطلاح Topology به چه معنی می‌باشد؟

- (۱) روابط مربوط به ارسال پیام
 (۲) سرعت بین کامپیوترها
 (۳) تعداد کامپیوترهای شبکه
 (۴) آرایش یا معماری شبکه

۴۵- چرا اعمال سیاست "تعیین کلمه عبور" برای کامپیوترهای یک سازمان ضروری است؟

- (۱) برای دسترسی آسان کاربران به منابع اطلاعاتی به اشتراک گذاشته شده
 (۲) برای آسان ساختن ورود کاربران به محیط شبکه
 (۳) برای جلوگیری از دسترسی غیر مجاز به اطلاعات موجود در سیستم
 (۴) برای آسان ساختن یافتن و بهره برداری از فایل‌های موجود در سیستم

◀ زبان انگلیسی

Read the following questions and choose the best answer.

46- He always gets good marks. He is much

- 1) foolish 2) clever 3) ripe 4) funny

47- He is tired because he.....football all afternoon.

- 1) have played 2) had played 3) has played 4) played

48- He is goingit next week.

- 1) to sell 2) sells 3) that sell 4) sell

49- I have to..... an appointment with the dentist.

- 1) to make 2) makes 3) making 4) make

50- I wish I..... a bird now.

- 1) am 2) be 3) had been 4) were

Read the following passage and answer questions 106-109.

Boston

Boston is the capital of the state of Massachusetts, about 200 miles north of New York city on the Atlantic Ocean. About 550.000 people live in the city. Boston is one of the oldest and most historically important cities in North America, and was founded in 1630. Boston is known for its fine universities, beautiful architecture, and delicious sea food. Boston college is a major university in this city.

BC is one of the oldest and largest university in the united states.

51- Boston is capital of the.....

- 1) state of Massachusetts 2) state of American
3) Australia 4) Melbourne

52- Boston is..... and.....

- 1) new -beautiful 2) old -important
3) big -beautiful 4) old -historical

53- Boston college is a..... university in this city.

- 1) small 2) major 3) long 4) careful

54 -Boston is in.....

- 1) Melbourne 2) South America 3) North America 4) America

55- Today, the weather is..... than yesterday.

- 1) bad 2) the wors 3) worst 4) worse

56- If you make one more mistake like this, you..... your job.

- 1) would lose 2) will lose 3) would have lost 4) will be losing

57- He came here..... his own car.

- 1) in 2) about 3) by 4) on

58- Oranges are a good..... of vitamin C.

- 1) origin 2) production 3) location 4) Source.

59- Hasti feared that if she walked the streets, she would be.....

- 1) qualify 2) molested 3) dense 4) probe

60- The Model T car, introduced in 1908..... \$850.

- 1) was priced at 2) a price of
3) to be priced at 4) the price was

سوالات بانکداری ۱

۱. شرکتی که بین دو یا چند نفر برای امور تجاری تشکیل شده و هر یک از شرکاء بدون اینکه سرمایه به سهام تقسیم شده باشد، فقط تا میزان سرمایه خود در شرکت مسئول دیون و تعهدات شرکت می باشد مربوط به کدام نوع از شرکت های زیر می باشد؟

- (۱) شرکت تضامنی
- (۲) شرکت محتاط سهامی
- (۳) شرکت با مسئولیت محدود
- (۴) شرکت سهامی

۲. حداقل سرمایه برای شرکت های سهامی عام می باشد.

- (۱) ۱۰ میلیون ریال
- (۲) ۵۰ میلیون ریال
- (۳) ۱۵ میلیون ریال
- (۴) ۵ میلیون ریال

۳. به شرکتی که برای مدت نامحدود به منظور رفع احتیاجات مشترک شرکا و بهبود وضع مادی و اجتماعی آنان تشکیل می گردد چه نام دارد؟

- (۱) شرکت نسبی
- (۲) شرکت تضامنی
- (۳) شرکت سهامی
- (۴) شرکت تعاونی تولید، مصرف و مسکن

۴. کدامیک از موارد مربوط به خدمات پایه ای بانکی و اعتباری نمی باشد؟

- (۱) عملیات اعتبارات اسنادی
- (۲) اجاره صندوق امانات
- (۳) خرید و فروش ارز به صورت نقدی و حواله ای
- (۴) صدور انواع کارت دریافت و پرداخت

۵. به منظور افتتاح حساب برای اشخاص حقوقی در..... شرکت، می بایست حق افتتاح حساب جاری برای شرکت در بانک یا بانک ها پیش بینی شود.

- (۱) شرکت نامه
- (۲) اساسنامه
- (۳) روزنامه رسمی
- (۴) همه موارد

۶. کدام یک از موارد ذیل در زمان ظهرنویسی پشت چک توسط اشخاص حقیقی الزامی نمی باشد؟

- (۱) کدپستی
- (۲) شماره شناسنامه
- (۳) تلفن
- (۴) آدرس

۷. انواع پول شامل کدام یک از موارد زیر می باشد؟

- (۱) پول کاغذی
- (۲) پول کالایی
- (۳) پول فلزی
- (۴) همه موارد

۸. به مجموع مانده حسابهای مشتریان بانکها که معمولاً به وسیله چک مورد استفاده قرار می گیرند، چه می گویند؟

- (۱) پول الکترونیکی
- (۲) پول کاغذی
- (۳) پول تحریری
- (۴) پول الکترونیکی و پول کاغذی

۹. شبه پول شامل کدام یک از موارد زیر است؟

- (۱) سپرده های مدت دار + سپرده های جاری
- (۲) سپرده های مدت دار + اسکناس مسکوک
- (۳) سپرده های پس انداز + سپرده های جاری
- (۴) سپرده های مدت دار + سپرده های پس انداز

آزمون استخدامی ۱۳۹۸ بانک سینا

۱۰. کدام یک جزء وظایف بانک مرکزی است؟

- ۱) خرید و فروش اوراق قسسی
- ۲) صدور اسکناس
- ۳) نظارت و اعمال پول در داخل و خارج کشور
- ۴) نشر اسکناس و صورت اسکناسهای قرضه

۱۱. کدام یک جزء وظایف بانکهای تجاری است؟

- ۱) قبول سپرده
- ۲) تعهد یا تضمین پرداخت های ارزی
- ۳) اعطای صندوق امانات
- ۴) گشایش اعتبارات اسنادی و انجام عملیات نقد و سندس عملی

۱۲. عملیات بانکی بدون ربا در چه سالی به کلیه بانک ها ابلاغ و به اجرا در آمد؟

- ۱) ۱۳۶۱
- ۲) ۱۳۶۲
- ۳) ۱۳۶۳
- ۴) ۱۳۶۴

۱۳. سیرده های قرض الحسنه شامل کدام یک از موارد ذیل است؟

- ۱) کوتاه مدت و جاری
- ۲) پس انداز و بلند مدت
- ۳) کوتاه مدت و بلند مدت
- ۴) پس انداز و جاری

۱۴. به چکی که موقع افتتاح حساب جاری با تقاضای کتبی مشتری در اختیار وی قرار می گیرد چه می گویند؟

- ۱) چک بسته
- ۲) چک عادی
- ۳) چک بین بانکی
- ۴) چک بانکی

۱۵. اگر دارنده حساب، دسته چک خود را همراه نداشته باشد، می تواند از بانک تقاضا کند، یک برگ چک در اختیار او قرار دهد.

- ۱) چک سفید
- ۲) چک بانکی
- ۳) چک عادی
- ۴) چک اسبوسی

۱۶. در صورتی که از تاریخ تنظیم وکالت نامه چند سال گذشته باشد، به منظور حصول اطمینان از اینکه وکیل عزل نشده و اصلح است، تاییدیه دفترخانه تنظیم کننده وکالت نامه به طور کتبی چند سال لازم است؟

- ۱) بیش از ۳ سال
- ۲) بیش از ۲ سال
- ۳) بیش از ۵ سال
- ۴) نیاز به اخذ تاییدیه نمی باشد.

۱۷. در پایان وقت اداری به منظور نشان دادن موجودی های نقدی و غیر نقدی اعم از اسکناس سالم، قسوده و ناقص، صورت موجودی صندوق، مسئول خزانه اقدام به تنظیم کلی شعبه بر اساس موجودی خزانه می نماید.

- ۱) ستوانیون
- ۲) صورت جلسه
- ۳) حسابرسی
- ۴) اسناد

۱۸. نوشته های که در ارائه ثبت اسناد و اموال یا دفاتر رسمی یا در نزد مأمورین رسمی در حدود صلاحیت آنها و بر طبق مقررات قانونی تنظیم شده باشد (ماده ۱۲۸۷ قانون مدنی) چه نام دارد؟

- ۱) چک
- ۲) سفته
- ۳) سند رسمی
- ۴) سند عادی

(A)

آزمون استخدامی ۱۳۹۸ بانک سینا

۱۹. "معرف" شخصی است که مورد اعتماد بانک بوده و یا از مشتریان است که مدتی نزد بانک...
(۱) حساب بانکی نداشته باشد (۲) حساب جاری نداشته باشد
(۳) حساب کوتاه مدت نداشته باشد (۴) حساب بلند مدت نداشته باشد
۲۰. عقدی است که به موجب آن یکی از طرفین، دیگری را برای انجام امری نایب خود می نماید.
(۱) شماره (۲) وکالت (۳) مرابحه (۴) حساب بلند مدت

سوالات حسابداری

۲۱. حسابداران برای اجرای کار در کلیه مراحل اجرای عملیات حسابداری از کدام اصول حسابداری استفاده می کنند؟

- (۱) بهای تمام شده - تطابق هزینه با درآمد - تحقق درآمد
(۲) تفکیک شخصیت - تداوم فعالیت - دوره مالی
(۳) فزونی منافع بر مخارج - اصل اهمیت
(۴) تحقق درآمد - دوره مالی - اصل اهمیت

۲۲. کدام یک از تعاریف زیر با توجه به اجزای معادله حسابداری صحیح است؟

- (۱) سرمایه یک واحد اقتصادی برابر است با مجموع دارایی ها و بدهی ها
(۲) بدهی های یک واحد اقتصادی برابر است با مجموع دارایی ها و سرمایه
(۳) دارایی های یک واحد اقتصادی برابر است با سرمایه منهای بدهی ها
(۴) دارایی به کلیه منابع اقتصادی متعلق به واحدی گفته می شود که انتظار می رود در آینده منفعتی برای واحد اقتصادی به همراه داشته باشد

۲۳. شرکت مخابرات، تجهیزات را به بهای تمام شده ۲۰۰/۰۰۰ ریال و استهلاک آتی ۴۰/۰۰۰ ریال را به قیمت ۲۳۰/۰۰۰ ریال فروخت و حسابداری شرکت صندوق و فروش را به مبلغ ۲۳۰/۰۰۰ ریال بدهکار و بستانکار نمود در نتیجه اشتباه فوق کدام یک از موارد زیر صحیح است؟

- (۱) سود خالص به مبلغ ۷۰/۰۰۰ ریال بیش از اندازه قلمداد شده است
(۲) کل دارایی ۳۰/۰۰۰ ریال بیش از اندازه قلمداد شده است
(۳) سود خالص به مبلغ ۳۰/۰۰۰ ریال بیش از اندازه قلمداد شده است
(۴) کل دارایی و سود خالص ۱۶۰/۰۰۰ ریال بیش از اندازه قلمداد شده است

(A)

برای تهیه بسته کامل سوالات آزمون استخدامی بانک سینا، اینجا کلیک نمایید.

۲۴. سرمایه سهام عبارت است از...

(۲) ارزش اسمی سهام منتشر شده

(۱) ارزش بازار سهام منتشر شده

(۴) مجموع ارزش بازار و صرفه یا کسر سهام

(۳) مجموع ارزش اسمی و صرفه یا کسر سهام

۲۵. میزانی که شرکتهای سهامی طبق قانون تجارت همه ساله به عنوان اندوخته قانونی در نظر می گیرند چقدر می باشد؟

(۱) ۱۰٪ سود خالص مدامی که شرکت فعالیت دارد

(۲) ۵٪ سود خالص مدامی که شرکت فعالیت دارد

(۳) ۱۰٪ سود خالص هر ساله تا میزان ۵۰٪ سرمایه قانونی شرکت

(۴) ۵٪ سود خالص هر ساله تا میزان ۱۰٪ سرمایه قانونی شرکت

۲۶. کدام یک از سرفصل های حسابداری زیر برای بانک ها در زمان تعیین با ایهام قابل توجهی روبرو است؟

(۱) اندوخته عمومی و احتیاطی

(۲) ذخیره مطالبات مشکوک الوصول

(۳) هزینه استهلاک

(۴) تمامی بدهی ها

۲۷. با توجه به اطلاعات زیر جمع درآمدهای مشاع بانک سینا را محاسبه نمایید؟

سود تسهیلات اعطایی ۱۰/۰۰۰، وجه التزام دریافتی از تسهیلات ۲۰۰۰، سود اوراق مشارکت ۵۰۰، خالص کارمزد دریافتی ۳۰۰، سود تسهیلات اعطایی - ارزی ۲۰۰، هزینه اداری ۷۰۰، مالیات ۲۰۰، هزینه مطالبات مشکوک الوصول ۵۰، سود سهام و سود فروش سهام ۵۰

۱۱۳۰۰ (۴)

۱۲۵۵۰ (۳)

۱۳۰۰۰ (۲)

۱۳۳۵۰ (۱)

۲۸. با توجه به اطلاعات سوال قبل سود قابل تقسیم چقدر می باشد؟

۱۰۵۵۰ (۴)

۱۳۱۰۰ (۳)

۱۳۳۰۰ (۲)

۱۳۰۵۰ (۱)

۲۹. میزان حق الوکاله ای که بانک ها مجازند در قبال بکارگیری منابع سپرده های سرمایه گذاری از سپرده گذاران دریافت نمایند توسط کدام ارگان تعیین می گردد؟

(۱) هیئت مدیره بانک عامل

(۲) شورای پول و اعتبار

(۳) هیات وزیران

(۴) مجمع عمومی بانک عامل

۳۰. یکی از خصوصیات کیفی صورت های مالی قابل مقایسه بودن آن می باشد که برای نیل به این خصوصیت در نحوه عمل حسابداری ضروری است.

(۱) ثبات رویه

(۲) اصلاح اشتباهات با اهمیت

(۳) کشف موارد تقلب

(۴) ارائه مجدد صورتهای مالی سالهای قبل

۳۱. سود خالص برای بانک سینا برای سال های متوالی ۹۵ و ۹۶ به ترتیب ۲۱۳/۰۰۰ میلیون ریال و ۲۹۵/۵۰۰ میلیون ریال می باشد و سود هر سهم به ترتیب ۷۱۰ و ۹۸۵ میلیون ریال می باشد. تعداد سهام بانک را تعیین کنید؟

- (۱) با توجه به اطلاعات فوق غیر قابل تشخیص (۲) ۷۱۶ (۳) ۵۱۶ (۴) ۳۰۰

۳۲. کدام یک از عبارات زیر نادرست می باشد؟

- (۱) اندوخته قانونی فقط در ترازنامه نمایش داده می شود
(۲) اندوخته قانونی در ترازنامه و سود و زیان انباشته نمایش داده می شود
(۳) اندوخته قانونی کاهش سود و زیان انباشته می باشد
(۴) اندوخته قانونی جزئی از حقوق صاحبان سهام می باشد

۳۳. موسسه خدماتی ایرانیان در ابتدای سال ۹۶ دارایی ثابتی به ارزش ۱۰/۰۰۰/۰۰۰ ریال خریداری نموده است که عمر مفید آن ۵ سال و ارزش اسقاط صفر، نرخ استهلاک ۲۰٪ می باشد معلوبست محاسبه استهلاک این دارایی در سال ۹۶ به روش مجموع سنوات؟

- (۱) ۹۵۰/۰۰۰ (۲) ۲/۰۰۰/۰۰۰ (۳) ۳/۳۳۳/۳۳۳ (۴) ۲/۶۶۶/۶۶۶

۳۴. کالایی به مبلغ ۱/۰۰۰/۰۰۰ و با شرط (ن ۲/۱۰-۳۰) فروخته شده است هنگام دریافت وجه در دوره تخفیف چه حسایی و به چه مبلغ بستانکار می شود؟

- (۱) بدهکاران ۹۸۰/۰۰۰ (۲) تحقیقات نقدی ۲۰/۰۰۰ (۳) بدهکاران ۱/۰۰۰/۰۰۰ (۴) حقوق ۹۸۰/۰۰۰

۳۵. کدام یک از حسابهای زیر جزو حسابهای موقت می باشد؟

- (۱) هزینه حقوق (۲) پیش دریافت (۳) ذخیره استهلاک اثاثه (۴) پیش پرداخت سیمه

۳۶. ترازنامه چیست؟

- (۱) فهرستی از مانده کتبه حسابهای دفتر کل در یک زمان مشخص می باشد
(۲) تصویری از وضعیت مالی یک واحد اقتصادی در یک زمان معین است
(۳) بیانگر عملکرد مالی یک شرکت در طی یک دوره مالی معین است
(۴) بیانگر تمام حسابهای دائمی و موقت یک واحد اقتصادی در یک دوره مالی است

۳۷. کدام یک از حسابهای زیر می تواند جزو بدهی های ترازنامه بانک سینا قرار بگیرد؟

- (۱) مطالبات از بانک مرکزی (۲) سفته های بهداری
(۳) تسهیلات اعطایی به مشتریان (۴) اوراق مشارکت

۳۸. کدام یک از اقلام زیر جزو تسهیلات اعطایی در گروه مبادلات تجاری و با عقود مبادله‌ای محسوب می‌شود؟

- ۱) وام فرض الحسبه - مشارکت مدنی - مشارکت حقوقی
- ۲) مضاربه - مرزافه - مزایحه
- ۳) حقالله - مزایحه - مرزافه
- ۴) سلف - مزایحه - فروش اقسامی

۳۹. در تهیه نوازنامه شرکت‌های خدماتی و بانکها تفاوت در ماهیت حسابها (بدهکار - بستانکار) در کدام یک از سرفصلهای زیر می‌تواند باشد؟

- ۱) موجودی نقد و مطالبات
- ۲) سپرده و تسهیلات اعطایی
- ۳) سرمایه گذاریها و دارائی‌ها
- ۴) سود انباشته و سرمایه

۴۰. بهترین شاخص کارایی عملیاتی در مدیریت یک واحد تجاری در گزارش سود و زیان عنوان می‌باشد.

- ۱) EPS
- ۲) سود قابل تقسیم
- ۳) EBIT
- ۴) سود ناویژه

مدیریت عمومی

۴۱. اثر بخشی کدام است؟

- ۱) استاندارد / داده
- ۲) درست انجام دادن کار
- ۳) انجام کار درست
- ۴) حداکثر استفاده از منابع

۴۲. کدامیک روابط متقابل بین واحدهای سازمان و محیط را تعیین می‌کنند؟

- ۱) مدیران عملیاتی
- ۲) مدیران میانی
- ۳) مدیران فنی
- ۴) مدیران اجرایی

۴۳. تشخیص موقعیت سازمان کدام است؟

- ۱) مهارت ادراکی
- ۲) مهارت عملیاتی
- ۳) مهارت فنی
- ۴) مهارت انسانی

۴۴. پیگیری رابطه با افراد خارج سازمان در کدام نقش مدیریت است؟

- ۱) رئیس تشریفاتی
- ۲) نقش اطلاعاتی
- ۳) مذاکره کننده
- ۴) نقش‌های متقابل شخصی

۴۵. محیط عمومی کدام است؟

- ۱) بطور مستقیم با سازمان ارتباط دارد
- ۲) شرایط سیاسی
- ۳) محیط واضح و روشن
- ۴) منحصر به فرد می‌باشد

۴۶. کدامیک از عناصر یک سیستم نیست؟

- ۱) خروجی
- ۲) فراگرد
- ۳) ورودی
- ۴) محیط

برای تهیه بسته کامل سوالات آزمون استخدامی بانک سینا، اینجا کلیک نمایید. (A)

آزمون استخدامی ۱۳۹۸ بانک سینا

۴۷. کدامیک از ویژگی‌های خاص بوروکراسی نیست؟

- (۱) برخورد غیرشخصی
- (۲) سیستم عمومی و احتمالی
- (۳) تقسیم کار
- (۴) مسیر ترقی مبتنی بر شایستگی

۴۸. تئوری "هیچ چیز در دنیا تصادفی نیست و بی‌نظمی ظاهری است". کدام است؟

- (۱) اثر پروانه‌ای
- (۲) نظم و انتظام
- (۳) تئوری آشوب
- (۴) اثر سیبی با غللی

۴۹. موانع خلاقیت کدام است؟

- (۱) تمایل هم‌رنگی یا جماعت
- (۲) خودمانایی یا هولوغرافیک
- (۳) تفکر سیبی یا غللی
- (۴) ساختار ارگالیک

۵۰. موقعیتی که وضع آینده به آسانی قابل پیش‌بینی باشد، کدام است؟

- (۱) موقعیت مخاطره
- (۲) موقعیت عدم اطمینان
- (۳) موقعیت ریسک
- (۴) موقعیت اطمینان

۵۱. دوراندیشی سازمان یافته در کدام برنامه‌ریزی است؟

- (۱) برنامه‌ریزی عملیاتی
- (۲) برنامه‌ریزی راهبردی
- (۳) برنامه‌ریزی تخصصی
- (۴) برنامه‌ریزی سیستمی

۵۲. تعداد کارکنانی که مستقیماً به یک مدیر گزارش می‌دهند کدام است؟

- (۱) حیطه نظارت
- (۲) هرم سازمانی
- (۳) درجه متمرکز
- (۴) تقسیم بندی افقی

۵۳. تقسیم بندی مینتزبرگ کدام است؟

- (۱) ساختار تیمی، شبکه‌ای، دانشی، بوروکراتیک، مکانیکی
- (۲) سطح ارشد، میانی، سرپرستی، عملیاتی
- (۳) سطح عملیاتی، راهبردی، میانی، فنی، پشتیبانی
- (۴) ساختار مکانیک، ارگانیکی، فرایندی، سفارشی، پروژه‌ای

۵۴. ساختار سازمانی مناسب شرکت‌های تولیدی و سازمان‌های دولتی کدام است؟

- (۱) بوروکراسی بحثی
- (۲) بوروکراسی حرفه‌ای
- (۳) ساختار ادھوکراسی
- (۴) ساختار ماشینی

۵۵. انتساب احساسات و ویژگی‌های خود به دیگران کدام است؟

- (۱) خطای هاله‌ای
- (۲) فرافکنی
- (۳) برخورد کلیته‌ای
- (۴) اثر اولین برخورد

برای تهیه بسته کامل سوالات آزمون استخدامی بانک سینا، اینجا کلیک نمایید.

هوش عمومی

۵۶. متحرکی که به طرف جنوب در حرکت بوده، سه برنیه، هر بار یک قائمه، مسیر خود را به سمت راست تغییر داده است، سمت حرکت به کدام سمت است؟

- (۱) جنوب (۲) شمال (۳) شرق (۴) مغرب

۵۷. نسبت به باران، مثل دلتنگی است به.....

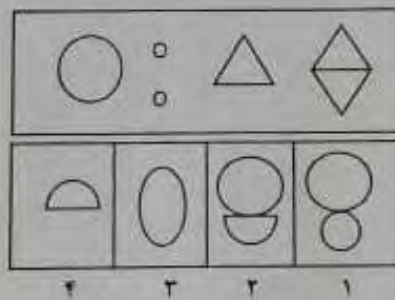
- (۱) آبر- آسمان (۲) آبر- گریه (۳) برف- غصه (۴) زمستان- گریه

۵۸. حجم کدام بیشتر است؟

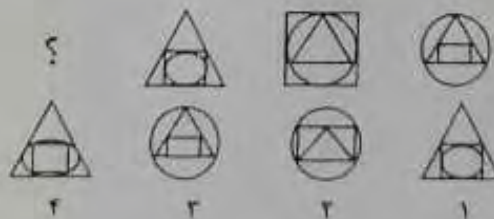
- (۱) ستون الف (۲) ستون ب

یک کره با شعاع 10cm یک مکعب با ضلع 10cm

۵۹. بین دو شکل اول سوال، از سمت راست، نسبتی برقرار است که همان نسبت بین شکل سوم با یکی از گزینه های ۱ و ۲ و ۳ و ۴ موجود است. شکل صحیح را انتخاب کنید.



۶۰. سه شکل داده شده است که بین آنها، یک رابطه منطقی وجود دارد؛ این رابطه را بیابید و سپس یکی از چهار شکل پیشنهاد شده را که باید به جای علامت ؟ قرار داد، انتخاب کنید.



۶۱. همه حاضران در این اتاق شیرازی هستند، رضا در این اتاق است. رضا شیرازی نیست. اگر جمله اول و دوم درست باشد، جمله سوم:

- (۱) حتما درست است (۲) حتما غلط است (۳) احتمالا غلط است (۴) احتمالا درست است

۶۲. پزشکی به بیماری، مثل روانپزشک است به:

(۴) ناسازگاری

(۳) سالخوردگی

(۲) حماقت

(۱) تنگدستی

۶۳. به هر یک از سه فرزند پدری که نصف دارایی خود را به تساوی بین آنها تقسیم کرده است، چه کسری از کل دارایی پدر می رسد؟

(۴) $\frac{1}{3}$

(۳) $\frac{1}{4}$

(۲) $\frac{1}{5}$

(۱) $\frac{1}{6}$

۶۴. به اجناس یک فروشگاه در مدت یکماه، دوبار تخفیف ۱۰٪ داده شده است. چند درصد نسبت به قیمت اولیه تخفیف داده شده است؟

(۴) هیچکدام

(۳) ۱۹٪

(۲) ۲۱٪

(۱) ۲۰٪

۶۵. رابطه وزارت با ترازو، مانند رابطه است با بیرق:

(۴) بلندی

(۳) برج

(۲) نزدیک

(۱) درفش

۶۶. کدام یک با بقیه فرق دارد؟



A



B

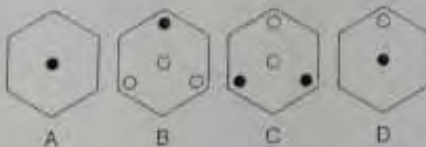



C



D

۶۷. کدام شش ضلعی باید جایگزین علامت سوال شود؟




A

B

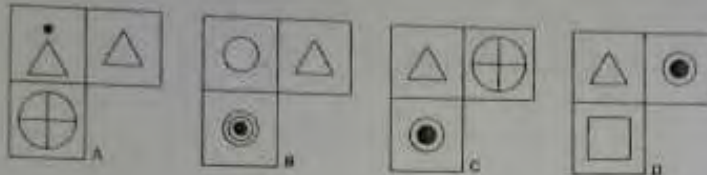
C

D

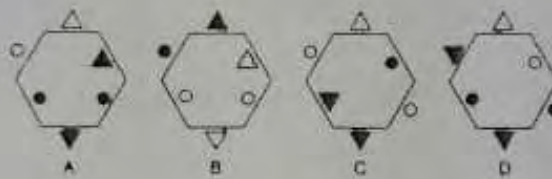
آزمون استخدامی ۱۳۹۸ بانک سینا



۶۸. کدام گزینه از شکل زیر حذف گردیده است؟



۶۹. نسبت به مانند نسبت به کدام شکل است؟



۷۰. حاصل $(2a - b)^2 + 4a(b - a)$ کدام است؟

- (۱) b^2 (۲) $b(a - b)$ (۳) $b(2b - a)$ (۴) $a(a + b)$

ادبیات

۷۱. توضیح زیر در مورد کدام یک از نامه های اداری است؟

«نوشته ای که جنبه عمومی دارد و از طرف مقام مسئول و ذیصلاح به منظور آگاهی و یا اجرا، برای واحدها و کارکنان ذینفع یا ذیربط ارسال می گردد.»

- (۱) دستورالعمل (۲) بخشنامه (۳) اطلاعیه (۴) دستور

۷۲. کدام یک از موارد زیر از ارکان اصلی نامه های اداری محسوب نمی شود؟

- (۱) پیوست (۲) سرلوحه (۳) عناوین (گیرنده، فرستنده و موضوع) (۴) امضا

برای تهیه بسته کامل سوالات آزمون استخدامی بانک سینا، اینجا کلیک نمایید. (A)

آزمون استخدامی ۱۳۹۸ بانک سینا

۷۳. در مورد امضای نامه اداری کدام گزینه نادرست است؟

- ۱) هیچ گونه عبارت اعم از نشکر، اختصار و آرزوی سلاجتی در محل امضا نوشته نشود.
- ۲) امضا باید روی سربرگ استم ثبت گردد. در پایین امضا قید نمی‌گردد.
- ۳) در مجموع، امضای نامه اداری دارای قراری سه رکن است: سمت فرد امضاکننده، نام و نام خانوادگی امضا کننده و خط امضا.
- ۴) در امضای نامه امضا سمت فرد امضا کننده و در سطر پایین، نام و نام خانوادگی وی قید می‌گردد.

۷۴. در کدام گزینه، دو عبارت استاندارد نامه اداری با هم تناسب ندارند؟

- ۱) به اطلاع می‌رساند - ارسال می‌گردد
- ۲) به استحضار می‌رساند - مقتضی است
- ۳) ابلاغ می‌گردد - شایسته است
- ۴) خواهشمند است - تقدیم می‌گردد

۷۵. کدام یک از گزینه‌های زیر جزء نامه‌های طبقه‌بندی شده نیست؟

- ۱) نامه‌های فوق العاده سری
- ۲) نامه‌های محرمانه مستقیم
- ۳) نامه‌های به کلی سری
- ۴) نامه‌های سری

۷۶. در عبارت زیر چند غلط از نظر رسم الخط وجود دارد؟

«یکی از فعالیست‌ها در رابطه با دیدگاه‌های منتقدان خود می‌گوید: بعنوان سیاستگذار مکتب فرعالیسم، علاقمندم با ایشان بصورت مستقیم گفتگو کنم.»

- ۱) پنج
- ۲) هفت
- ۳) شش
- ۴) هفت

۷۷. در عبارت "عبید زاکانی دانشمند وارسته‌ای بود که در زمان خود محبوب بود ولی حرف‌های خود را در قالب شوخی بیان می‌کرد." بین دو واژه «بود» و «ولی» کدام علامت نگارشی مناسب است؟

- ۱) نقطه
- ۲) ویرگول
- ۳) دو نقطه
- ۴) نقطه ویرگول

۷۸. توضیح زیر مربوط به کدام یک از علائم نشانه‌گذاری است؟

«از این علامت به منظور نشان دادن تغییر روال نوشته و یا تغییر کلی سیاق سخن استفاده می‌شود.»

- ۱) سه ستاره
- ۲) قلاب
- ۳) دو کمان (پرانتز)
- ۴) خط کشیده

۷۹. در کدام یک از جمله‌های زیر غلط نگارشی وجود ندارد؟

- ۱) از ایشان خواستم درباره این مسئله برای شما توضیحاتی داشته باشند.
- ۲) این ساختمان از لقمی‌های مهندسی «راواتی برخوردار است».
- ۳) کتاب‌هایی که سال گذشته از نمایشگاه خریدم را هنوز مطالعه نکرده‌ام.
- ۴) سوابق درخشان آقای احمدی، ما را بیش از پیش امیدوار می‌کند.

آزمون استخدامی ۱۳۹۸ بانک سینا

۸۰. در کدام یک از عبارات‌های زیر غلط نگارشی وجود دارد؟
- ۱) خیرین مدرسه‌ساز هر سال مدارس زیادی را آماده و به آموزش و پرورش تحویل می‌دهند.
 - ۲) گزارش بعدی ما به رویاندهای فرهنگی و هنری اختصاص دارد.
 - ۳) شهرهای شمالی ایران از منظره‌های بسیار زیبایی برخوردار هستند.
 - ۴) آسمان شهرهای تهران، زاهدان، مشهد و گرمانشاه آفتابی بیش بیسی می‌شود.

۸۱. در کلماتی که همزه پایانی دارند، اگر حرف پیش از همزه ساکن یا یکی از عسوت‌های بلند «ا»، «و» و «ی» باشد، همزه ...

- ۱) روی کرسی «ا» نوشته می‌شود.
- ۲) بدون کرسی نوشته می‌شود.
- ۳) روی کرسی «و» نوشته می‌شود.
- ۴) روی کرسی «ی» نوشته می‌شود.

۸۲. کدام گزینه در مورد صورتجلسه نادرست است؟

- ۱) رئیس جلسه مانند سایر اعضا دارای یک حق رأی است و به دلیل رئیس بودن اختیار ویژه ای به وی تعلق نمی‌گیرد.
- ۲) در صورتی که فرد شرکت کننده به نمایندگی از طرف شخص حقیقی دیگری در جلسه حضور یافته باشد نام هر دو نفر باید یا توجیه کامل مطلب، قید شود.
- ۳) نظارت بر آماده بودن جلسه و حصول اطمینان از فراهم بودن لوازم و ابزار مورد نیاز جلسه از وظایف رئیس جلسه است.
- ۴) هدف از تشکیل جلسه از قبل باید به شکل مکتوب، تحت عنوان دستور جلسه برای شرکت کنندگان ارسال گردد.

۸۳. «ارائه آموزش‌های لازم به منظور اجرای یکنواخت امور اداری» از اهداف کدام یک از نامه‌های اداری است؟

- ۱) بختنامه
- ۲) گزارش
- ۳) ابلاغیه
- ۴) دستورالعمل

۸۴. در مورد اندازه و ابعاد نامه‌های اداری کدام گزینه نادرست است؟

- ۱) کاغذ A4 مخصوص مطالب بیشتر از پنج سطر است.
- ۲) کاغذ A5 مخصوص مطالب کمتر از پنج سطر است.
- ۳) کاغذ A6 مخصوص یادداشت‌های کوتاه داخلی بین کارمندان یک واحد سازمانی است.
- ۴) کاغذ A3 مخصوص نقشه‌ها و نمودارهای گرافیکی است.

۸۵. کدام یک از گزینه‌های زیر جزء اهداف مکاتبات اداری نیست؟

- ۱) ایجاد ارتباطات نوشتاری صحیح و هماهنگی و یکنواختی در امور اداری سازمان‌ها
- ۲) رضایت ارباب رجوع در هنگام پیگیری
- ۳) حفظ و نگهداری مکتوب و نوشته
- ۴) نظم و ترتیب در گردش مکاتبات

برای تهیه بسته کامل سوالات آزمون استخدامی بانک سینا، اینجا کلیک نمایید.

دانش رایانه ICDL

۸۶. یک پردازشگر شامل کدام قسمت های زیر است؟

- (۱) واحد محاسبه و منطق - واحد کنترل - حافظه
(۲) واحد محاسبه و منطق - واحد کنترل - حافظه بهار
(۳) ALU - واحد کنترل - Register
(۴) گزینه های ۱ و ۲

۸۷. معادل عدد (۲۷۳۵) در مبنای ۲ کدام است؟

- (۱) ۱۰۰۱۱۱۰۰۱۱۰۱۰۱
(۲) ۱۰۱۰۱۱۰۱۱۱۰۱۰
(۳) ۱۰۱۱۱۰۱۱۰۰۱
(۴) ۱۰۱۱۱۰۱۱۱۰۱

۸۸. برای اینکه اطلاعات حذف شده در داخل Recycle Bin قرار نگیرند، کلید..... را نگه می داریم.

- (۱) Shift (۲) Ctrl (۳) Alt (۴) Ctrl+Shift

۸۹. به وسیله چه برنامه ای امکان فشرده کردن فایل ها وجود دارد؟

- (۱) Win zip (۲) Win RAR (۳) Clean Up (۴) گزینه های ۱ و ۲

۹۰. اسناد تولید شده در محیط Word با چه فرمتی ذخیره می شود؟

- (۱) Wordx و Word (۲) Dotx و Dot (۳) Docx و Doc (۴) Jpg و Gif

۹۱. با کدام گزینه زیر می توان جدول را رسم کرد؟

(۱) سربرگ home، گروه Table، دکمه Table

(۲) سربرگ Insert، گروه Table، دکمه Insert Table

(۳) سربرگ View، گروه document views، دکمه Print Layout

(۴) سربرگ Insert، گروه Illustrations، دکمه Chart

۹۲. مقدار $Sum(D2:D6)/Count(D2:D6)$ برابر است با:

- (۱) ۱۵ (۲) ۵ (۳) ۱۶ (۴) ۱۴

۹۳. مقدار عبارت زیر کدام است؟

$$= (Min (B2:E6) + Max (B2:E6))/2$$

- (۱) ۱۱ (۲) ۱۱۵

- (۳) ۹/۵ (۴) ۲۴

	A	B	C	D	E
1		Word	Excel	Access	Windows
2	Amir	15	7	12	18
3	Ali	19	13	15	18
4	Negar	8	12	5	15
5	Ehsan	13	18	16	14
6	Kazem	3	8	12	5

آزمون استخدامی ۱۳۹۸ بانک سینا

۹۴. کدام یک از تعاریف زیر با عبارت مطابقت دارد؟
Table (ب) مجموعه ای از چند فیلد گفته می شود (۳)

Field (ب) هر ستون از جدول گفته می شود (۱)

همه ی موارد (۴)

Record (ب) مجموعه ای از چند فیلد گفته می شود (۳)

۹۵. کدام یک از گزینه های زیر سیستم مدیریت پایگاه داده نیست؟

Oracle (۴)

Word (۳)

SQL Server (۳)

Access (۱)

۹۶. کدام گزینه زیر معادل Slide Show می باشد.

F7 (۴)

F6 (۳)

F5 (۳)

F4 (۱)

۹۷. فایل های ایجاد شده در محیط PowerPoint را چه می نامند؟

chart (۴)

document (۳)

book (۳)

presentation (۱)

۹۸. WWW مخفف کدام یک از گزینه های زیر می باشد؟

World Wide Web (۳)

Wild Web Word (۱)

Web Window World (۴)

Window World Web (۳)

۹۹. اصطلاح Topology به چه معنی می باشد؟

سرعت بین کامپیوترها (۲)

روابط مربوط به ارسال پیغام (۱)

آرایش یا معماری شبکه (۴)

تعداد کامپیوترهای شبکه (۳)

۱۰۰. چرا اعمال سیاست "تعیین کلمه عبور" برای کامپیوترهای یک سازمان ضروری است؟

(۱) برای دسترسی آسان کاربران به منابع اطلاعاتی به اشتراک گذاشته شده

(۲) برای آسان ساختن ورود کاربران به محیط شبکه

(۳) برای جلوگیری از دسترسی غیرمجاز به اطلاعات موجود در سیستم

(۴) برای آسان ساختن یافتن و بهره برداری از فایل های موجود در سیستم

Read the following questions and choose the best answer.

101. He always gets good marks. He is much.....
1) foolish 2) clever 3) ripe 4) funny
102. He is tired because he.....football all afternoon.
1) have played 2) had played 3) has played 4) played
103. He is going it next week.
1) to sell 2) sells 3) that sell 4) sell
104. I have to an appointment with the dentist.
1) to make 2) makes 3) making 4) make
105. I wish I a bird now.
1) am 2) be 3) had been 4) were

Read the following passage and answer questions 106-109.

Boston

Boston is the capital of the state of Massachusetts, about 200 miles north of New York city on the Atlantic Ocean. About 550,000 people live in the city. Boston is one of the oldest and most historically important cities in North America, and was founded in 1630. Boston is known for its fine universities, beautiful architecture, and delicious sea food. Boston college is a major university in this city.

BC is one of the oldest and largest university in the united states.

106. Boston is capital of the
1) state of Massachusetts 2) state of American 3) Australia 4) Melbourne
107. Boston is and
1) new - beautiful 2) old - important 3) big - beautiful 4) old - historical
108. Boston college is a university in this city.
1) small 2) major 3) long 4) careful
109. Boston is in.....
1) Melbourne 2) South America 3) North America 4) America

برای تهیه بسته کامل سوالات آزمون استخدامی بانک سینا، [اینجا](#) کلیک نمایید.

110. Today, the weather is than yesterday.
1) bad 2) the worst 3) worst 4) worse
111. If you make one more mistake like this, you your job.
1) would lose 2) will lose 3) would have lost 4) will be losing
112. He came here his own car.
1) in 2) about 3) by 4) on
113. Oranges are a good of vitamin C.
1) origin 2) production 3) location 4) source
114. Hasti feared that if she walked the streets, she would be
1) qualify 2) molested 3) dense 4) probe
115. The Model T car, introduced in 1908.....\$ 850.
1) was priced at 2) a price of 3) to be priced at 4) the price was

پاسخ	سوال	پاسخ	سوال	پاسخ	سوال	پاسخ	سوال	پاسخ	سوال	پاسخ	سوال
						۲	۴۷	۳	۲۴	۳	۱
						۱	۴۸	۱	۲۵	۲	۲
						۴	۴۹	۲	۲۶	۱	۳
						۴	۵۰	۲	۲۷	۴	۴
						۱	۵۱	۱	۲۸	۳	۵
						۴	۵۲	۴	۲۹	۲	۶
						۲	۵۳	۲	۳۰	۴	۷
						۳	۵۴	۴	۳۱	۱	۸
						۴	۵۵	۴	۳۲	۳	۹
						۲	۵۶	۱	۳۳	۲	۱۰
						۳	۵۷	۴	۳۴	۳	۱۱
						۴	۵۸	۳	۳۵	۱	۱۲
						۲	۵۹	۲	۳۶	۳	۱۳
						۱	۶۰	-	۳۷	۳	۱۴
								۱	۳۸	۱	۱۵
								۳	۳۹	۲	۱۶
								۳	۴۰	۱	۱۷
								۲	۴۱	۴	۱۸
								۱	۴۲	۲	۱۹
								۲	۴۳	۱	۲۰
								۴	۴۴	۱	۲۱
								۲	۴۵	۴	۲۲
								۲	۴۶	۱	۲۳